

Odpowiedzi do zadań zawartych w zeszyte ćwiczeń „Planeta Nowa 6” – zadania na maj-czerwiec

I. Sąsiedzi Polski

1. Dziedzictwo przyrodnicze i kulturowe Litwy i Białorusi

1. A. Litwa, Białoruś, B. Białoruś, C. Litwa, D. Litwa, Białoruś, E. Litwa, F. Litwa
2. Kolejno od lewej: A. Ostra Brama, (Litwa) B. Zamek w Mirze, (Białoruś) C. Mierzeja Kurońska (Litwa)

3.

Ś	G	R	L	A	W	I	L	N	O
Y	L	R	W	F	Y	R	A	B	M
A	K	N	O	S	R	Z	T	A	M
D	C	W	B	D	R	S	Ą	W	I
E	Y	I	G	A	N	F	D	R	Ń
P	J	T	F	Ą	Y	O	Z	F	S
J	A	E	S	Ż	Ć	B	H	J	K
A	C	B	D	K	O	W	N	O	Ż
L	H	S	B	W	R	T	O	P	L
K	F	K	G	Y	H	O	M	E	L

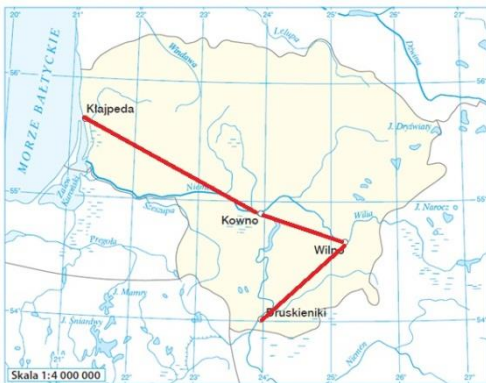
Liczba mieszkańców miasta	Litwa	Białoruś
powyżej 1 000 000	-----	Mińsk
500 000 – 1 000 000	Wilno, Kowno	Homel
100 000 – 500 000	Kłajpeda	Grodno, Witebsk

4.

- np.:
A. żeglarstwo, rejsy morskie, windsurfing itp.
B. turystyka piesza i rowerowa
C. spływy kajakowe
D. turystyka uzdrowiskowa

5.

- a) C
b)



długość trasy zmierzona na powyższej mapie – ok. 440 km
długość trasy zmierzona na mapie cyfrowej – 445,8 km


6.

a)



b) Muzea poświęcone historii Kanału Augustowskiego, Cerkiew św. Borysa i Gleba z XII wieku, dom Elizy Orzeszkowej, park wodnym w Druskenikach. Możliwość obserwowania ptaków, na przykład czapli i bielików.


2. Współczesne problemy Ukrainy

1. a)
- 
- b) 1. Odessa, 2. Charków, 3. Donieck, 4. Kijów, 5. Dniepr
2. 1.P, 2.P, 3.P, 4.F
3. a) obszary kontrolowane przez rosyjskich separatystów na żółto, obszary włączone do Rosji w 2014 r. – na różowo
b)
A. Sewastopol, Symferopol, Kercz
B. Ługańsk, Donieck, Mariupol
4. kolejno: C, B, D, A
5. a) A. 5 987 140 B. starzejącego się
b) B, C, D
6. a) niebieski, zielony, czerwony
b) południowo zachodnim / zachodnim, 149 m, 1832 m n.p.m.

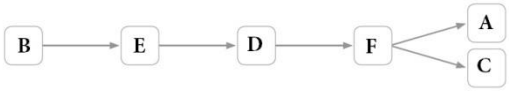
3. Zróżnicowanie przyrodnicze i gospodarcze Rosji

1. a) B
b) Pogórze Kazachskie
2. a) A. Tomsk, B. Moskwa, C. Dudinka
b)
- | Miasto | Temperatura powietrza w styczniu (°C) | Temperatura powietrza w lipcu (°C) | Suma opadów w lipcu (mm) | Roślinność |
|---------|---------------------------------------|------------------------------------|--------------------------|--|
| Moskwa | -9° | 18° | 90 | Lasy iglaste i liściaste, obszary rolnicze |
| Tomsk | -17° | 19° | 72 | Tajga, obszary rolnicze |
| Dudinka | -38° | 14° | 43 | Tundra |
3. platyna - 6, ropa naftowa - 5, diamenty - 2, węgiel kamienny - 4, gaz ziemny - 7, złoto - 3
4. A. eksportowi, B. węgla kamiennego i gazu ziemnego C. badawczo – rozwojowych
D. pogorszenie
5. W Petersburgu funkcjonuje ponad 2000 bibliotek, 80 teatrów, 220 muzeów, 45 galerii i 62 kina. Znajduje się tam również jedno z największych i najbogatszych muzeów sztuki na świecie – Ermitaż.
6. Petersburg podobnie jak Wenecja położony jest na wielu wyspach które łączy duża ilość mostów. Oba miasta przecinane są siecią kanałów.

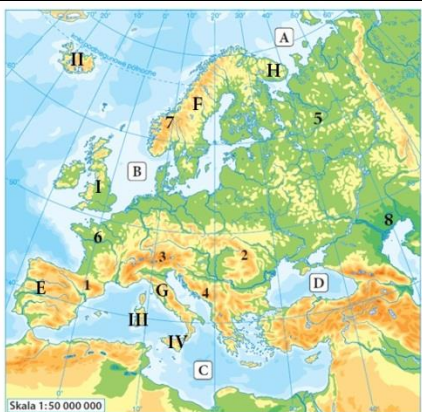
4. Relacje Polski z sąsiadami

1. a), c), d)
- 
1. Berlin 2. Praga 3. Bratysława 4. Kijów 5. Mińsk 6. Wilno 7. Moskwa
- b) zakreskowane: Niemcy, Czechy, Słowacja, Litwa
2. A. Litwa B. Niemcy C. Rosja D. Ukraina
3. A. Karpacki – 4 B. Pomerania – 1 C. Niemen – 6
4. Np.: Rozbudowa infrastruktury turystycznej spowoduje napływ większej ilości turystów. Współpraca między przedsiębiorcami może przyczynić się do rozwoju gospodarczego regionu. Współpraca przyczyni się do organizowania wielu ciekawych imprez kulturalnych. Nauka języka przyczyni się do lepszej komunikacji i współpracy w wielu dziedzinach. Wszystkie działania powodują lepsze stosunki między mieszkańcami pogranicza.


Sprawdź czy potrafisz „Sąsiedzi Polski”

1.	A. Białoruś – 5 B. Słowacja – 3 C. Niemcy – 1
2.	C
3.	 <p style="text-align: right;">A i C zamiennie</p>
4.	W pierwszej ofercie skreślone: Zamek w Mirze W drugiej ofercie skreślone: w pobliżu Lewoczy
5.	Rosja: C, D, F, G, H Ukraina: A, B, E, I
6.	a) Na niebiesko granice z: Niemcami, Czechami, Słowacją i Litwą. Na czerwono granice z: Ukrainą, Białorusią i Rosją b) 1.P, 2.P, 3.F, 4.F, 5.P

Sprawdź czy znasz mapę! Mapa fizyczna Europy

1.	A. Morze Barentsa B. Morze Północne C. Morze Śródziemne D. Morze Czarne 1. Pireneje 2. Karpaty 3. Alpy 4. Góry Dynarskie
2.	

Sprawdź czy znasz mapę! Mapa polityczna Europy

1.	A. Islandia B. Łotwa C. Hiszpania D. Czechy E. Grecja 1. Moskwa 2. Sztokholm 3. Rzym 4. Bukareszt 5. Wiedeń
2.	podkreślone: Łotwa, Hiszpania, Czechy, Grecja
3.	

Krzyżówki geograficzne

1.	<p>Środowisko przyrodnicze Europy</p> <ol style="list-style-type: none"> 1. Bazalt 2. Laki 3. Atlantycki 4. Wołga 5. Nadkaspijska 6. Fiordy 7. Step 8. Ural 9. Magma <p>Hasło: LITOSFERA Wyjaśnienie: Zewnętrzna skalna powłoka Ziemi.</p>
----	--

2.	<p>Ludność i gospodarka Europy</p> <ol style="list-style-type: none">1. Unia Europejska2. Moskwa3. Górnictwo4. Rekultywacja5. Paryż6. Euro7. Emigrant8. Hradczany9. TGV10. Usługi <p>Hasło: ENERGIA ODNAWIALNA Wyjaśnienie: To energia pochodząca ze źródeł niewyczerpywalnych takich jak woda, słońce, wiatr, geotermia czy biomasa.</p>
3.	<p>Sąsiedzi Polski</p> <ol style="list-style-type: none">1. Północne2. Karpaty3. Mińsk4. Jaskinia5. Śnieżka6. Białowieski7. Druskieniki8. Krymski9. Land10. Wełtawa11. Bajkał <p>Hasło: PAŃSKA SKAŁA</p>